

DATOS DEL ASPIRANTE	CALIFICACIÓN
Apellidos: _____ Nombre: _____ DNI: _____ IES: _____	_____ Numérica de 0 a 10, con dos decimales

PRUEBAS DE ACCESO A CICLOS FORMATIVOS DE GRADO SUPERIOR

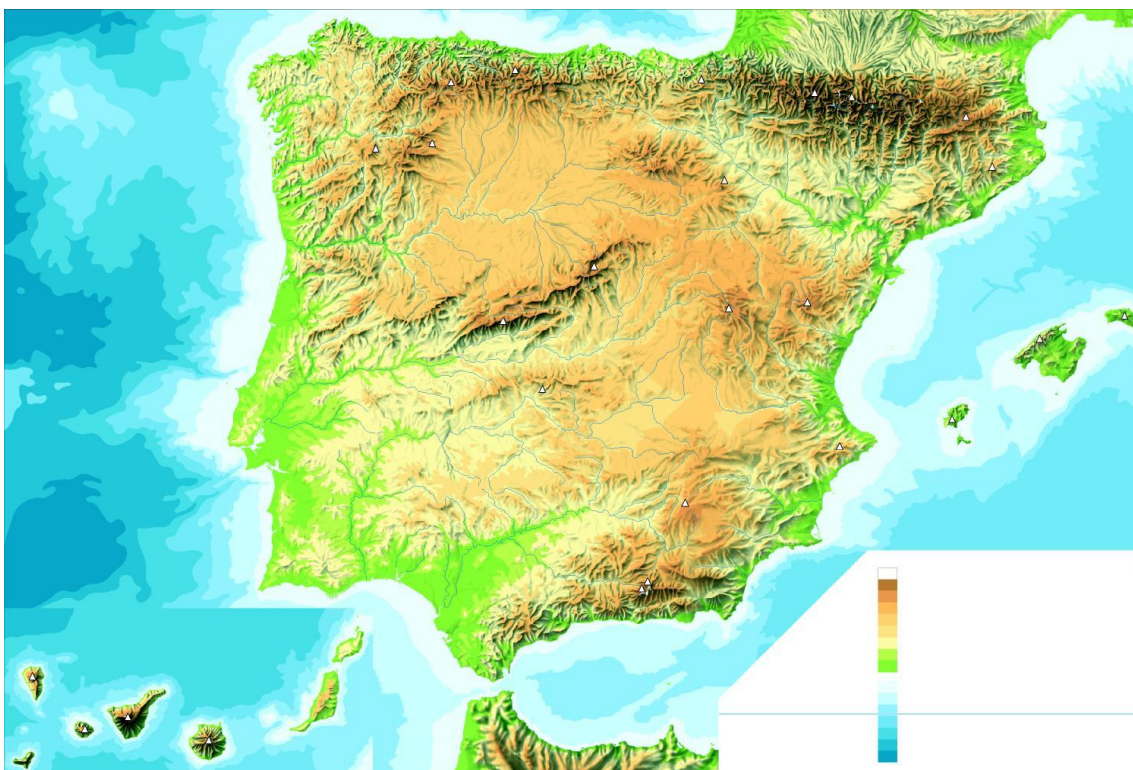
Resolución de 24 de noviembre de 2017, BOA 13/12/2017

PARTE ESPECÍFICA

OPCIÓN C. HUMANIDADES Y CIENCIAS SOCIALES: GEOGRAFÍA

1. Conteste a las siguientes preguntas:

- a) En el mapa, escriba sobre ellas o señale, los nombres de las cadenas montañosas formadas por la orogenia alpina. (1 punto)

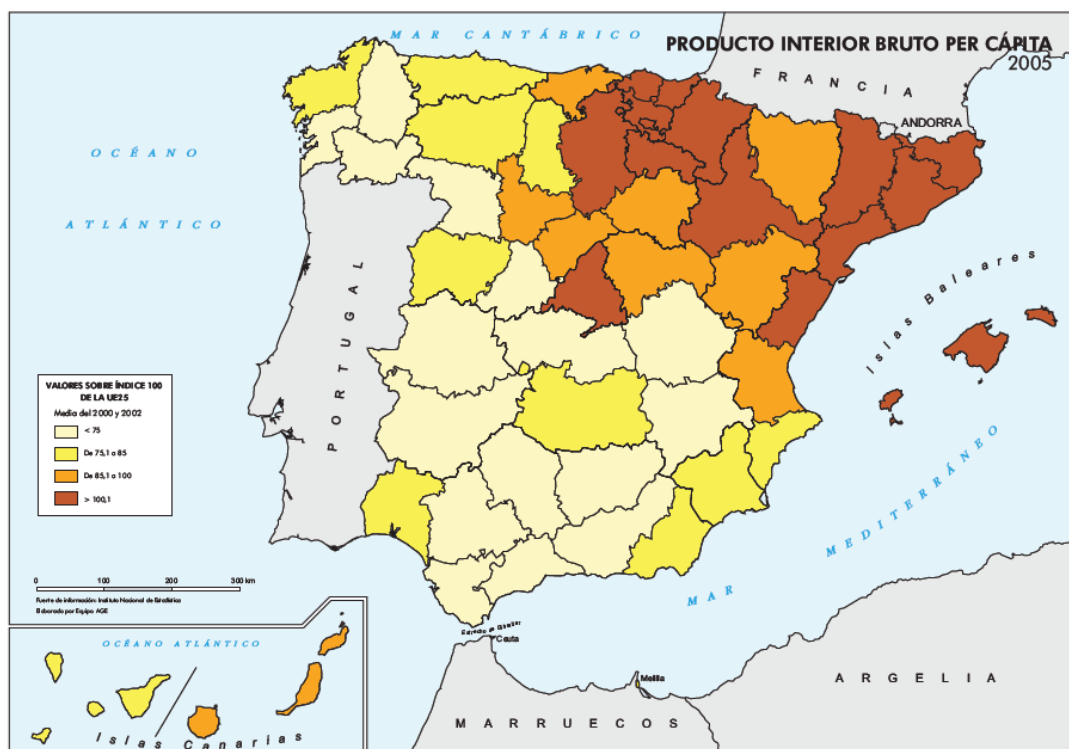


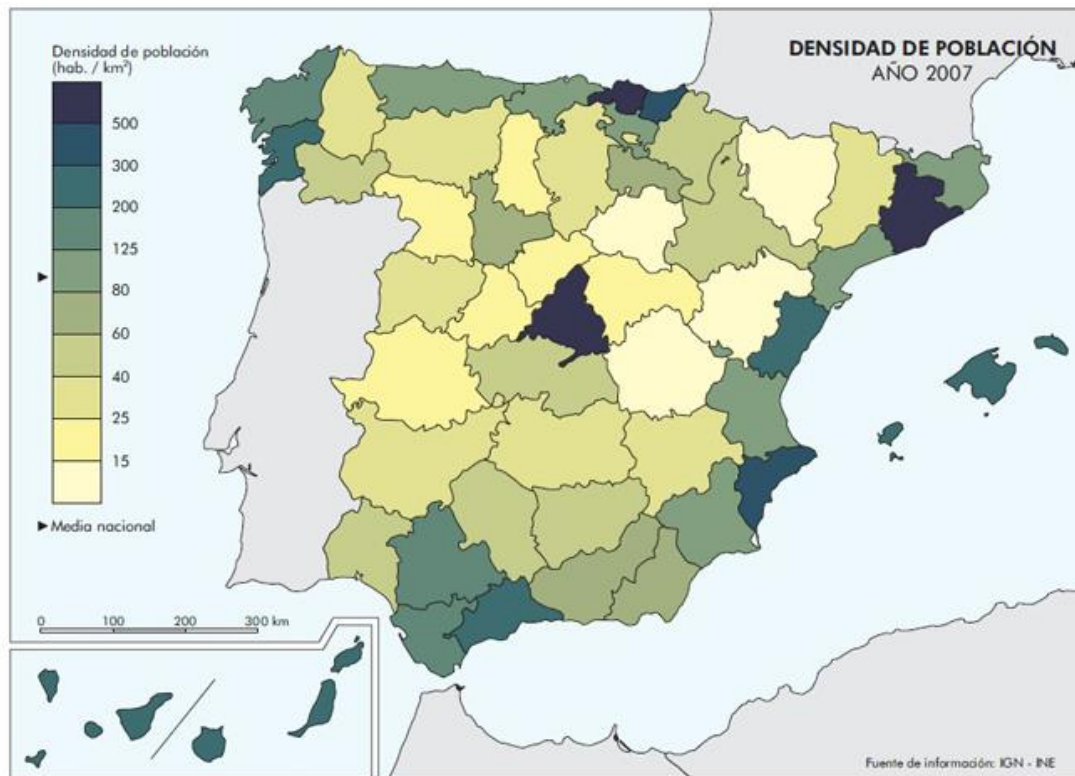
- b) Explique la diferencia entre cordillera y depresión poniendo varios ejemplos de España para cada caso. (1 punto)

2. Responda las preguntas relacionadas con esta serie de datos obtenidos del Instituto Aragonés de Estadística relativos a la distribución de la población activa de España por sectores de actividad.

Miles de personas	Agricultura	Industria	Construcción	Servicios
2015	990,3	2.664,9	1.281,0	14.955,6
2012	1.021,0	2.798,7	1.590,7	14.964,7
2008	960,5	3.449,8	2.882,0	14.903,6

- a) Con estos datos, ¿se puede decir que España es un país con una economía terciarizada? Justifique la respuesta. (1 punto)
- b) La construcción es una actividad que tiene un fuerte peso en la actividad económica española. Exponga los factores que explican esta peculiaridad de la economía de España. (1 punto)
3. Con la ayuda de los mapas explique cuáles son las principales razones del desequilibrio territorial de España en cuanto a población y riqueza productiva (2 puntos).

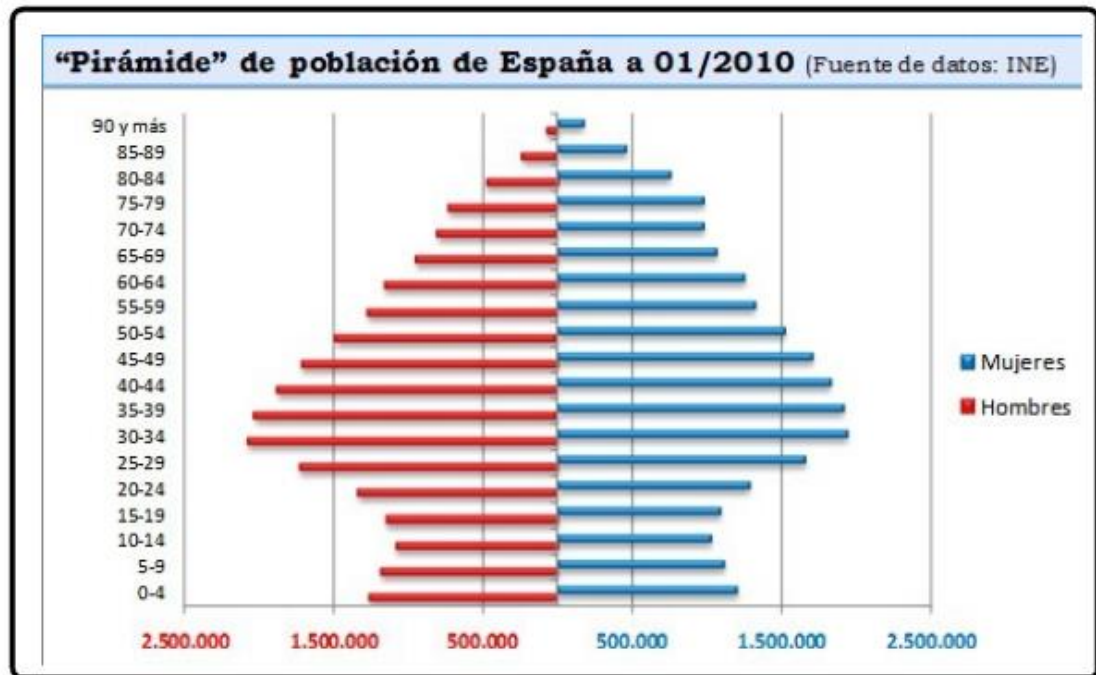




Fuente: <http://www.ign.es/pobesp/pdf/m313i.pdf>

Imagen 6. Densidad de población en España. 2006

4. Dé una respuesta breve y precisa para cada ejercicio:
- ¿Por qué se caracteriza el clima mediterráneo? (0.5 puntos)
 - ¿Qué es la balanza comercial? (0.5 puntos)
 - Explique por qué España tiene una posición energética deficitaria. (0.5 puntos)
 - ¿Cuáles son los objetivos de la Política Agraria Común (PAC)? (0.5 puntos)
5. Realiza un breve comentario de la siguiente pirámide de edad de España, y responde porque hablamos de una estructura envejecida. (1 punto)
- Explica las razones de cómo ha ido cambiando y cómo se puede corregir en el futuro. (1 punto)



6.

Instrucciones de aplicación, materiales permitidos y criterios de calificación:

El valor total de esta prueba es de 10 puntos. En cada pregunta se indica el valor de la misma.

En la calificación se tendrá en cuenta la coherencia expositiva y el empleo de la terminología adecuada.